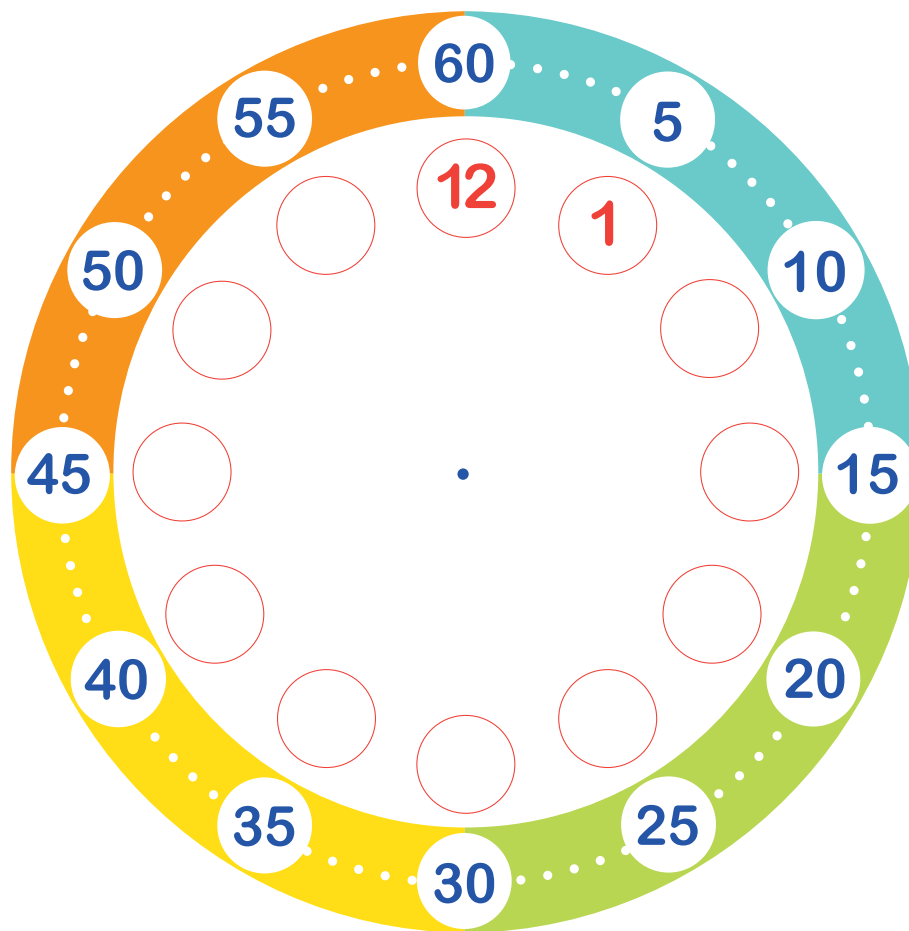


Exercice  
#1

## ÉCRIRE LES CHIFFRES DES HEURES

À l'aide d'un crayon **rouge**, écris les chiffres **2** à **11** dans les ronds.



Imprimer en couleur, pour bénéficier au maximum de l'apprentissage offert.

Utiliser un crayon rouge pour les heures et bleu pour les minutes.

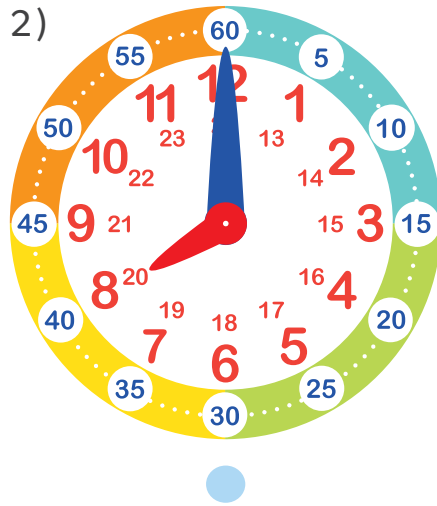
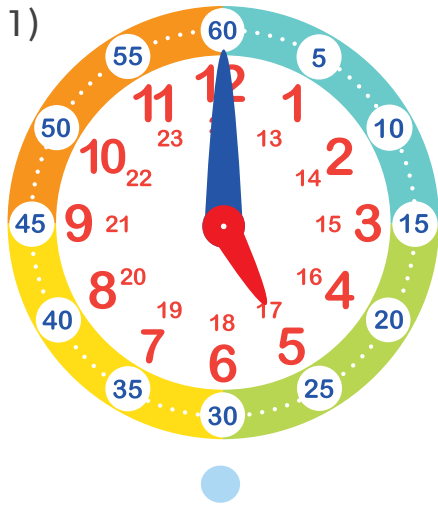
Afin de faciliter la résolution de problème, il est recommandé d'utiliser le cadran d'apprentissage disponible sur notre site Web :

[www.olofusion.com](http://www.olofusion.com)



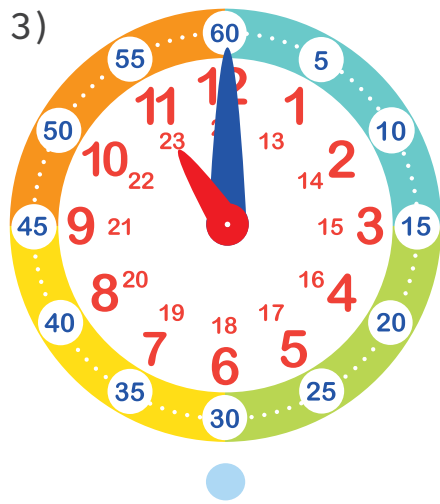
Exercice #2A

RELIE LE CADRAN À LA BONNE HEURE



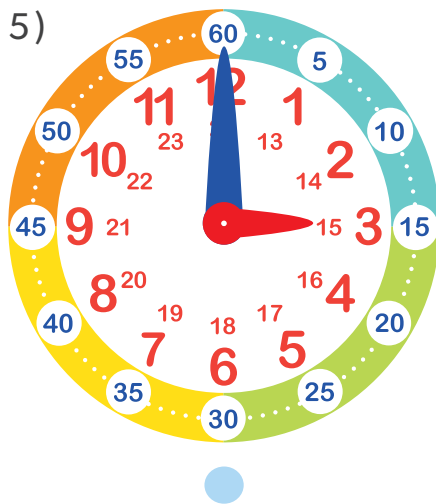
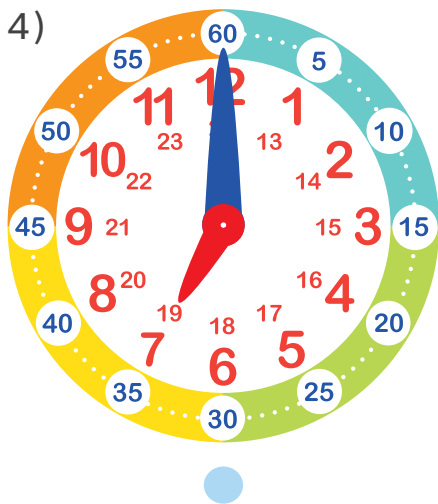
● 5 h 00

● 7 h 00



● 3 h 00

● 8 h 00



● 11 h 00

# EXERCICES D'APPRENTISSAGE DE L'HEURE

Exercice #2B

## INDIQUE L'HEURE QUE TU VOIS SUR LE CADRAN

Utilise un **crayon rouge** pour indiquer les **heures** et un **crayon bleu** pour indiquer les **minutes**.

1)

\_\_\_\_\_ : \_\_\_\_\_

2)

\_\_\_\_\_ : \_\_\_\_\_

3)

\_\_\_\_\_ : \_\_\_\_\_

4)

\_\_\_\_\_ : \_\_\_\_\_

5)

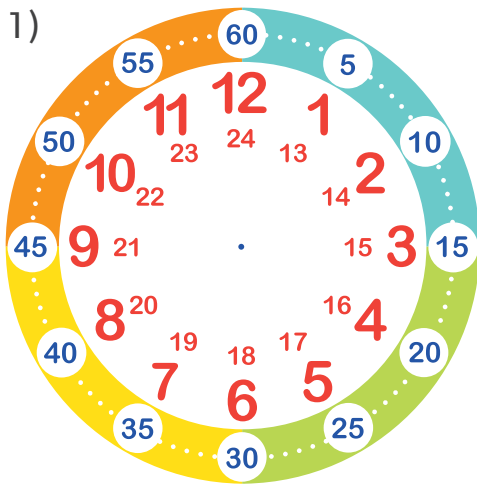
\_\_\_\_\_ : \_\_\_\_\_

6)

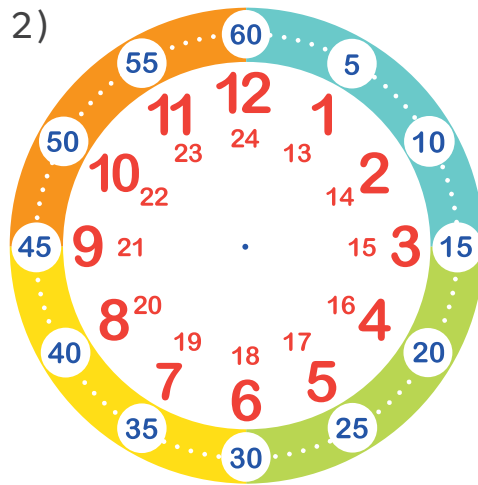
\_\_\_\_\_ : \_\_\_\_\_

Exercice  
#2CTRACE L'AIGUILLE DES **HEURES** ET DES **MINUTES** SUR LES CADRANS

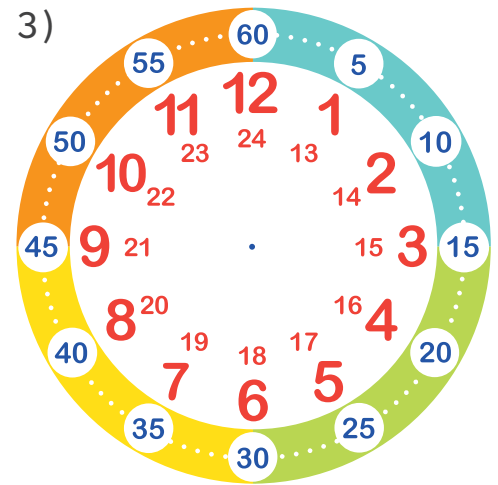
Utilise un **crayon rouge** pour indiquer les **heures** et un **crayon bleu** pour indiquer les **minutes**.



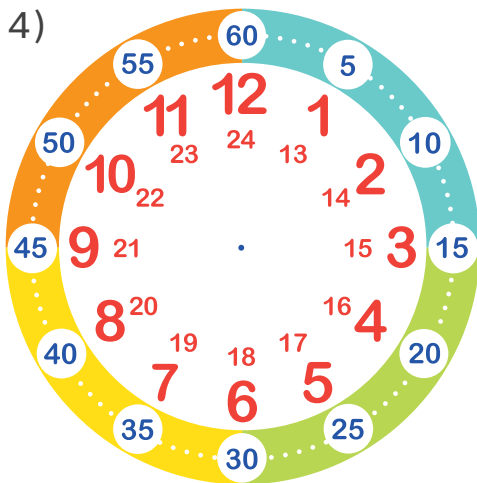
2 h 00



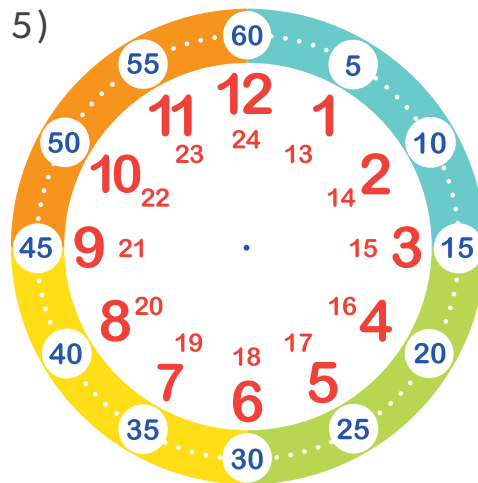
10 h 00



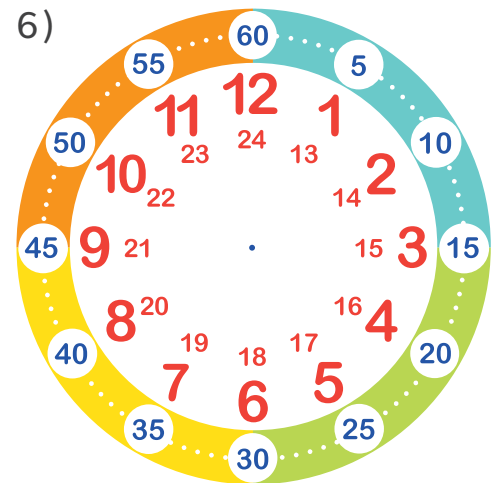
8 h 00



12 h 00



6 h 00




4 h 00

# EXERCICES D'APPRENTISSAGE DE L'HEURE

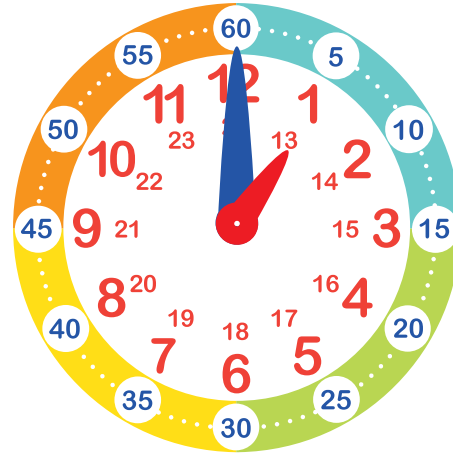
Exercice #2D

## VRAI OU FAUX

Encerle la bonne réponse.



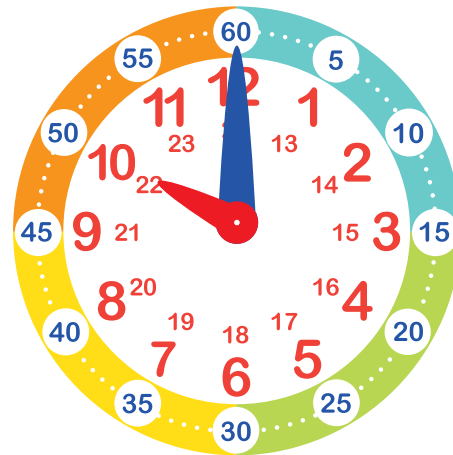
1)  
Il est **8 h 00**  
Vrai Faux



2)  
Il est **5 h 00**  
Vrai Faux



3)  
Il est **6 h 00**  
Vrai Faux



4)  
Il est **10 h 00**  
Vrai Faux



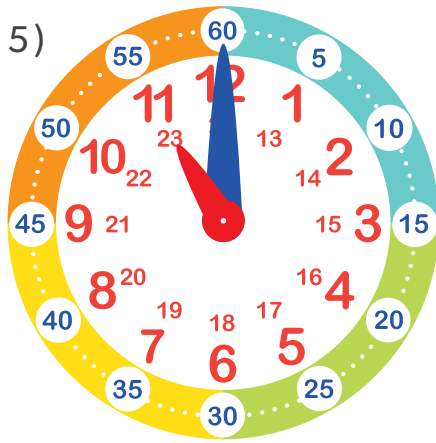
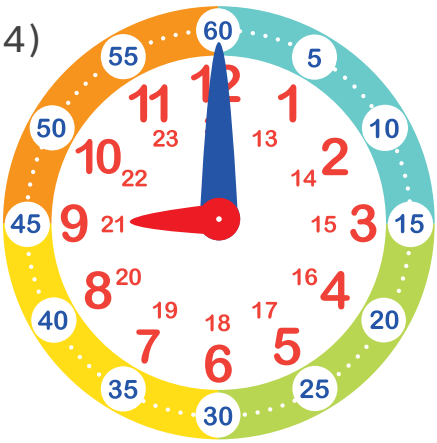
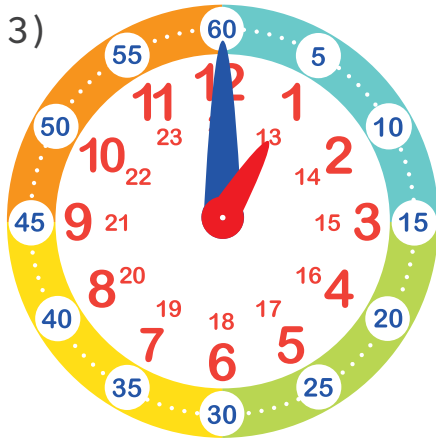
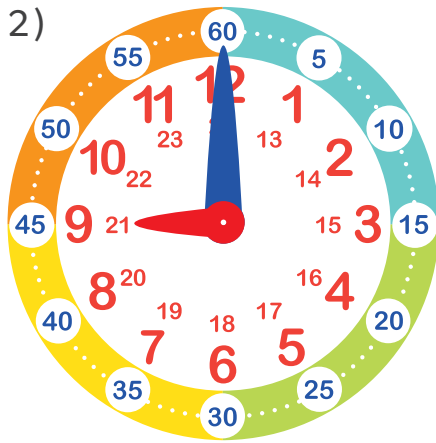
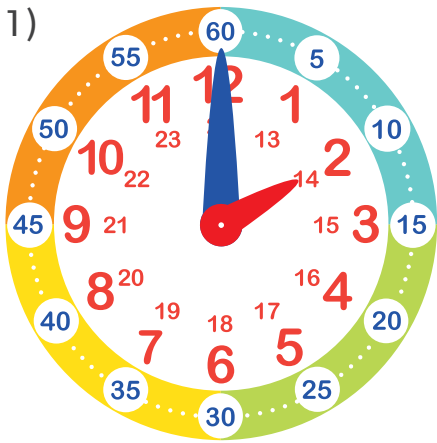
5)  
Il est **12 h 00**  
Vrai Faux



6)  
Il est **4 h 00**  
Vrai Faux

Exercice  
#2E

RELIE LA PHRASE AU BON CADRAN



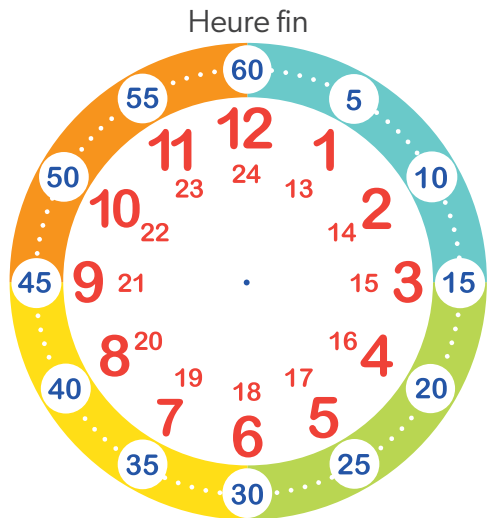
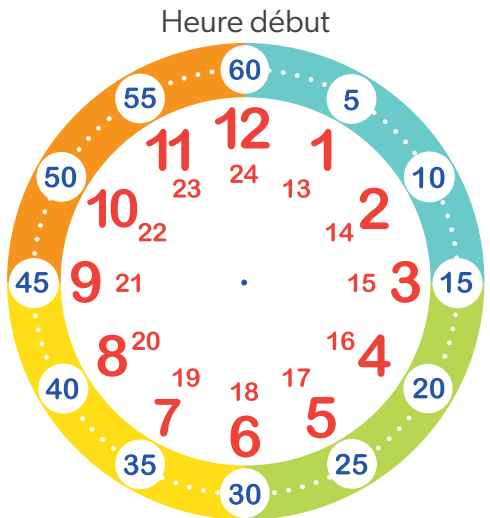
- Tu joues le matin dans le parc à **9 h 00**.
- Tu regardes les étoiles le soir à **21 h 00**.
- Ton cours de gym débute en après-midi à **14 h 00**.
- Tu manges une glace après ton dîner à **13 h 00**.
- Tu fais un dessin avant le dîner à **11 h 00**.

Exercice #2F

MISES EN SITUATION

Résous les problèmes suivants :

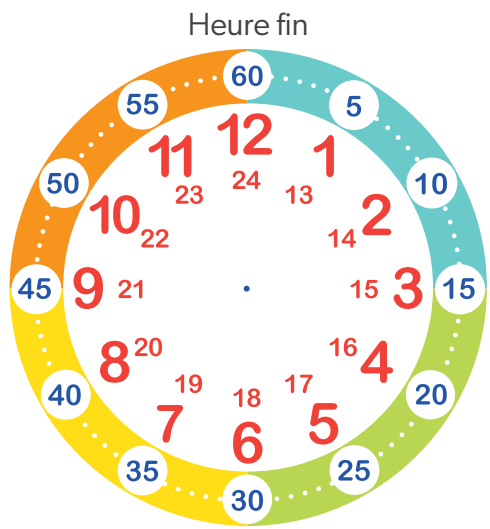
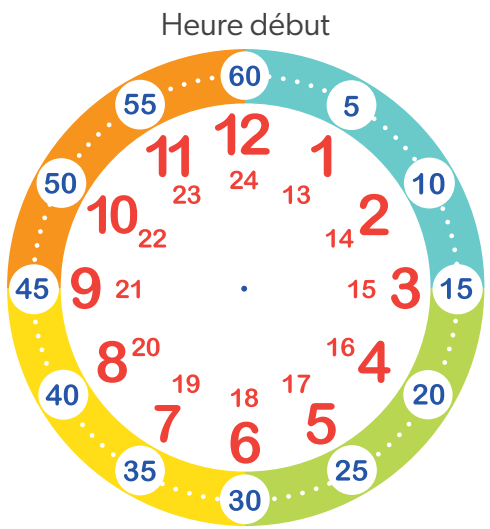
1) Tu vas pêcher avec ton grand-père à 7 h 00. Vous attrapez un poisson 1 heure plus tard. À quelle heure avez-vous attrapé le poisson ?



Équation : .....

Réponse : .....

2) Tu arrives à l'épicerie avec ta mère à 15 h 00. Vous quittez le magasin à 17 h 00. Combien d'heures êtes-vous restés au magasin ?



Équation : .....

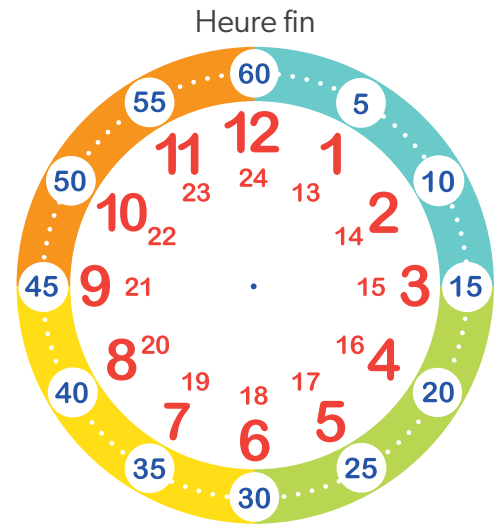

Réponse : .....

Exercice #2F

MISES EN SITUATION

Résous les problèmes suivants :

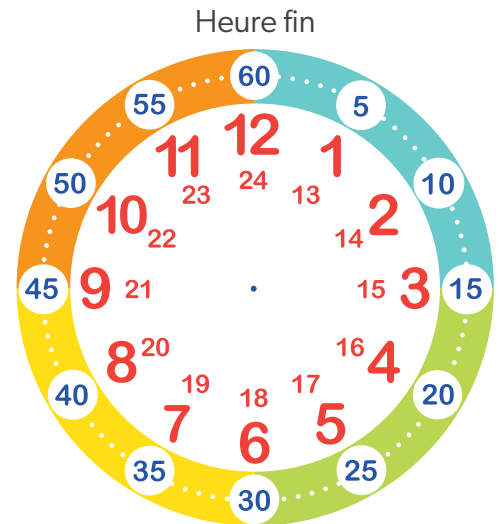
3) Ton cours de judo commence à **9 h 00** et se termine à **11 h 00**.  
Tu restes combien d'**heures** à ton cours ?



Équation : .....

Réponse : .....

4) À midi (**12 h 00**), tu prépares un gâteau avec ta grand-mère.  
Il prend **2 heures** à cuire, à quelle heure sera-t-il prêt ?

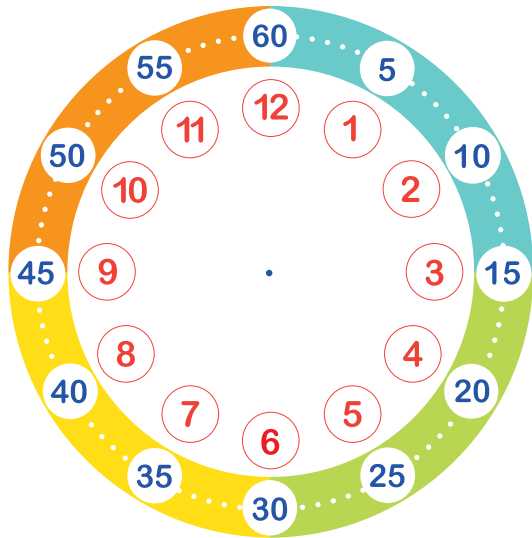


Équation : .....

Réponse : .....



## Exercice #1



## Exercice #2D

- 1) Vrai      4) Vrai
- 2) Faux     5) Vrai
- 3) Faux     6) Faux

## Exercice #2E

- 1) Ton cours de gym débute en après-midi à **14 h 00**.
- 2) Tu joues le matin dans le parc à **9 h 00**.
- 3) Tu manges une glace après ton dîner à **13 h 00**.
- 4) Tu regardes les étoiles le soir à **21 h 00**.
- 5) Tu fais un dessin avant le dîner à **11 h 00**.

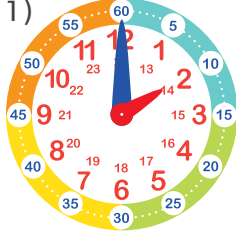
## Exercice #2A


- 1) **5 h 00**
- 2) **8 h 00**
- 3) **11 h 00**
- 4) **7 h 00**
- 5) **3 h 00**

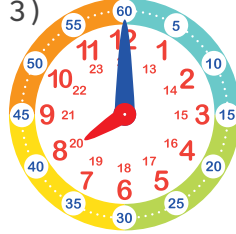
## Exercice #2B


- 1) **8:00**
- 2) **6:00**
- 3) **1:00**
- 4) **5:00**
- 5) **12:00**
- 6) **3:00**

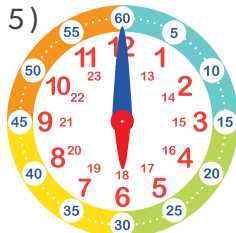
## Exercice #2C

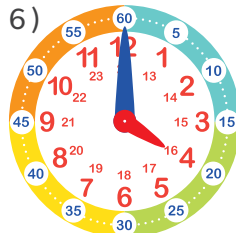
1)   
**2 h 00**

2)   
**10 h 00**

3)   
**8 h 00**

4)   
**12 h 00**

5)   
**6 h 00**

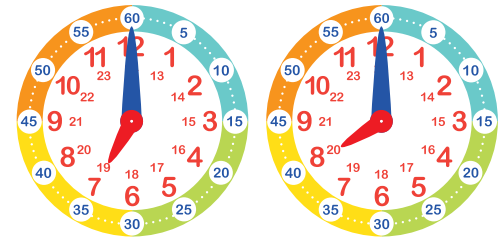
6)   
**4 h 00**

## Exercice #2F

1)

Équation:  $7 + 1 = 8$

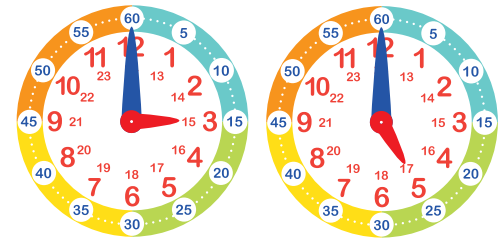
Réponse: **8:00**



2)

Équation:  $17 - 15 = 2$

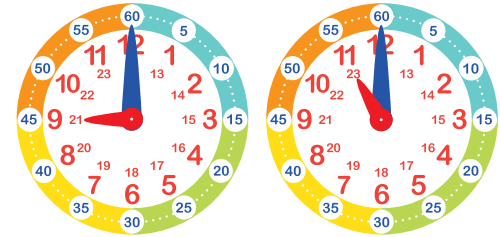
Réponse: **2 heures**



3)

Équation:  $11 - 9 = 2$

Réponse: **2 heures**



4)

Équation:  $12 + 2 = 14$

Réponse: **14:00**

